

演習課題

2023年春学期金曜3時限(13:30~15:00) ビジネスの基礎知識

日付: 年 月 日	学科:	学年:	氏名:	学生番号:
-----------	-----	-----	-----	-------

テキスト: <http://nagamitsu1950.sakura.ne.jp/baibaitorihiki-no-kiso.pdf>

出典:「ビジネス基礎新訂版」(実教出版 2018年1月)5章及び6章より抜粋

ビジネスと売買取引



1 売買取引の手順

(1) 売買契約の締結と履行

次の用語をネットで調べてみよう。

ビジネスとは、
企業とは、
売買とは、
契約とは、
履行とは

次の質問に答えてください。このテキストの説明に沿って答えてください。

売買取引とはどのような行為をいいますか？
売買契約の締結は、どのような手順でなされますか？
売買契約の履行において、買い手がすることは何ですか？また、売り手がすることは何ですか？
企業間である売買取引と企業と消費者の間であるそれとの違いについては、どのように説明していますか？

(2) 売買契約の条件

①商品と品質の決め方

次の用語を説明してください。このテキストの説明に沿って答えてください。

商標とは、
銘柄とは、

次の質問に答えてください。このテキストの説明に沿って答えてください。

売買契約を締結する際にどのような条件を取り決めますか？
店頭で消費者が買う場合と企業同士で売買する場合の違いをどのように説明していますか？

②取引数量の決め方

次の質問に教えてください。このテキストの説明に沿って教えてください。

取引数量の単位を表す方法には二種類ありますが、それは何ですか？

その二種類の取引数量の単位のそれぞれ用例をいくつか挙げてください。

荷づくり単位とは何だと思えますか？

次の用語をネットで調べてみよう。

度量衡とは、

入数（いりすう）とは、

考えてみよう。

一度に大量に仕入れると、単位あたりの仕入代金が安くなるのはなぜだと思えますか？

次の質問にも教えてください。このテキストの説明に沿って教えてください。

大量仕入れのデメリットには、どのようなことがかんがえられますか？

③価格の決め方

次の質問に教えてください。このテキストの説明に沿って教えてください。

建てと建値について具体例を挙げて説明してください。

外国との取引における船を輸送手段にした価格の取り決め方を二つ上げてみてください。

その二つの価格を、それぞれ説明してみてください。

次に、テキスト 6 頁の下にある「価格の決め方」のイラストを見て、「現場渡し価格」の¥100,000 を¥150,000 にした場合に次の価格はいくらになるか計算してみてください：

「現場渡し価格」：	¥150,000
「FOB 価格」：	¥
「CIF 価格」：	¥
「持ち込み渡し価格」：	¥

価格を決める際に取り決めるべき二つの負担があります。それは何と何ですか？

国内取引においては、これらの負担はどのように取り扱っていますか？

国内取引における主な二つの取引価格について説明してください。

④受け渡し条件の決め方

次の質問に答えてください。このテキストの説明に沿って答えてください。

受け渡し条件で取り決めるべき三点を上げてください。

その三点について、それぞれ説明してください。

次の用語をネットで調べてみよう。

有価証券とは、

船荷証券とは、

貨物引換証とは、

倉荷証券とは、

⑤代金決済の決め方

次の質問に答えてください。このテキストの説明に沿って答えてください。

代金の決済条件では、二つのことを取り決めますが、それは何と何ですか？

その取り決めるべき二つについて、簡単に説明してください。

商品の受け渡し時期を基準とした「決済時期」の三つの種類について説明してください。

締め切り日・支払い日の具体例を挙げてください。

売掛金や買掛金の「決済時期」は上述の三種類のうちいずれですか？

考えてみよう

決済に使われる手段（決済手段）には、**現金通貨**（法定通貨のこと）と**要求払預金**（当座預金や普通預金）があります。（おしえて日銀：<https://www.boj.or.jp/announcements/education/oshiete/kess/i02.htm/>）
 （質問1）手形での決済はいずれに当たると思いますか？

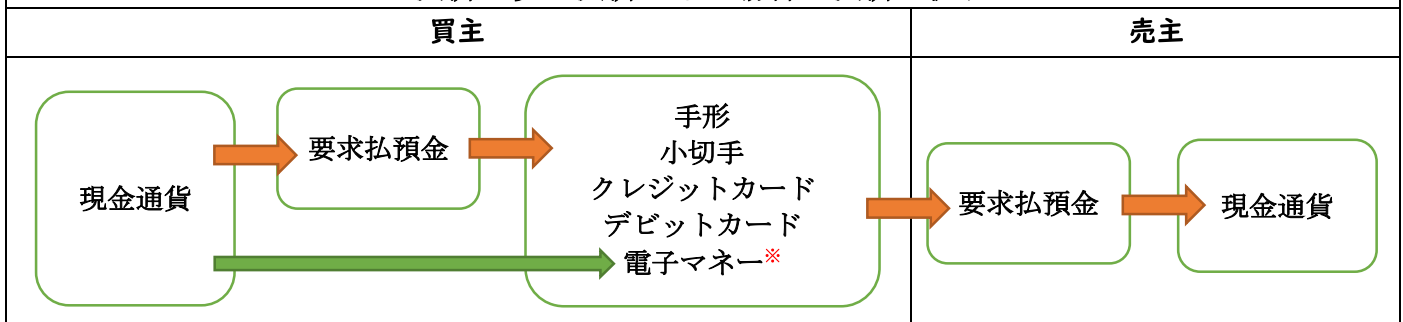
（質問2）PayPayでの決済はいずれに当たると思いますか？

なお、各種**ポイント**（ポイントプログラム）については商品・サービスに付随する、対価性を有しない、単純な「おまけ」的で、無償で発行されているため、商品・サービスと交換できる点でポイントプログラムと類似する**商品券**、**ギフト券**、**プリペイドカード**などは、資金決済法上の「前払式支払手段」として、区別される。ここで、**ポイントの法的性質**としては、ポイント提供企業とのポイントプログラム契約に基づく**停止条件付き贈与契約による債権**として位置づけられている。


参考サイト：ニッセイ基礎研究「ポイントプログラムとは何か」

<https://www.nli-research.co.jp/report/detail/id=54549&pno=2?site=nli> →「ポイントプログラム契約により消費者が得る債権とは、法的には、（受贈者による意思表示という停止条件が成就するまでは、贈与者により行使可能な約定解除権等を付与した）停止条件付き贈与契約による債権であると評価できる。」（上田正勝著：「企業が提供するポイントプログラムの加入者（個人）に係る所得税の課税関係について」260頁）
<https://www.nta.go.jp/about/organization/ntc/kenkyu/ronsou/78/04/01.pdf>

決済が現金決済でない場合の決済の流れ



決済が現金決済の場合の決済の流れ



※電子マネー：Suica、ICOCA、PayPay等。現金から直接チャージする場合があります。

電子マネーについて：https://paypay.ne.jp/store-media/knowledge/0017_denshimoney/

（質問3）現金から直接チャージするICOCAで支払う場合の流れを、上の流れに従って図示してみてください。

(3) 売買契約の締結

売買契約を締結する際には、契約文書を取り交わさなければ契約できない、と思いますか？

次の内金、手付金、申込金を読んで、キャンセルしたときに戻ってくるかどうかについて、簡単にまとめてください。

	内金	手付金
性質（目的）	代金の前払い	解約権の留保のための対価（解約手付金）
解約の可否と返還の有無	<ul style="list-style-type: none"> ・解約には解除条件が必要 ・自己の都合による一方的解除は契約違反として損害賠償が発生する場合がある。 ・解約時に返還 	<ul style="list-style-type: none"> ・解除条件不要 ・債務不履行の有無を問わず解約権（契約解除権）を行使できる ・買主事情による解約：返還されない ・売主事情による解約：2倍の返還
会計処理	「前払金」又は「前受金」で記帳	「前払金」又は「前受金」で記帳
売買履行時の扱い	代金の一部に充当	代金の一部に充当
支払うタイミング	売買契約の締結後から引渡日の間	売買契約の締結時

「**申込金**（申込証拠金）」：購入や賃貸の申込の際に、優先的に購入や賃貸する権利を確保する目的で**契約する前に**支払われます。経理上「預り金」という扱いになり、**申し込みをキャンセルした場合は返還しない約束をしていない限り通常戻ってきます**。契約が成立した場合はその後に支払う契約金の一部として当てられます。

なお、**旅行社の手配旅行契約**における「申込金」は、**契約する前にする上述の「申込金」とは異なり**、この申込金をもって旅行契約が成立したとする旅行契約成立の要件となるもので、契約の締結時の「証拠手付金」を意味し、契約をキャンセルする場合には**取消料**として充当され、旅行代金清算時には「旅行代金」の一部に充当されます。なお、旅行契約において、旅行契約の予約をする場合があるが、この場合、旅行契約はこの予約の時点では成立しておらず、旅行社が予約の承諾の旨を通知した後、通常、その通知に記載されている期日までに申込金（旅行代金の全額または一部）を受領した時にその旅行契約が成立します。

①見積もりに必要な書類

見積依頼書 No. 12

平成 X 年 6 月 1 日

東京都台東区上野 1-10-8
 関西電器株式会社 東京支社 御中
 (見積期限平成 X 年 6 月 5 日)

東京都千代田区外神田 4-2-5
 関東家電株式会社 御中

下記についてお見積もりのうえ、期限までに同封の見積書をご提出ください。

納入期日	平成 X 年 6 月 20 日	運送方法	自動車便	支払条件	着荷後 7 日以内 振込
納入場所	買い手倉庫	運賃掛	(売り主)・買い主 負担		
品名	数量	摘要			
3ドア冷蔵庫 (KR245)	10				
以下余白					
係印					

出典：「ビジネス基礎新訂版」(実教出版 2018 年 1 月) 137 頁より抜粋

見積書 (見積依頼書 No. 12)

平成 X 年 6 月 3 日

東京都台東区上野 1-10-8
 関西電器株式会社 東京支社 御中

東京都千代田区外神田 4-2-5
 関東家電株式会社 御中

下記のとおりお見積もり申し上げますので、なにとぞご用命くださるようお願いいたします。

納入期日	平成 X 年 6 月 20 日	運送方法	自動車便	支払条件	着荷後 7 日以内 振込
納入場所	買い手倉庫	運賃掛	(売り主)・買い主 負担		
品名	数量	単価	金額 (税抜)・税込		
3ドア冷蔵庫 (KR245)	10	101,000	1,010,000		
以下余白					
合計	10	¥101,000	¥1,010,000		
税率 10%	消費税額 ¥101,000	税込合計金額	¥1,111,000		
係印					

上の見積依頼書及び見積書を見て次の質問に答えてください。

<p>この見積依頼書について：</p> <p>発行会社は誰？</p> <p>売り手は誰？</p> <p>買い手は誰？</p> <p>運賃は元払いか着払い？</p> <p>見積書の作成期限はいつ？</p>	<p>この見積書について：</p> <p>発行会社は誰？</p> <p>納入場所はどこ？</p> <p>1台税込みでいくら？</p> <p>支払は前払い？後払い？</p>
---	---

②注文に必要な書類

注 文 書 No. 20

平成 X年 6月 5日

東京都台東区上野 1-10-8
関西電器株式会社 東京支社 御中

東京都千代田区外神田 4-2-5
関東家電株式会社 御中

下記のとおり注文いたします。


納入日	平成 X年 6月 20日	運送方法	自動車便	支払条件	着荷後7日以内 振込
納入場所	買い手倉庫	運賃掛	売り主・買い主 負担		
品名		数量	単価	金額 (税抜)・税込	
	3ドア冷蔵庫 (KR245)	10	101,000	1,010,000	
	以下余白				
合計		10	¥101,000	¥1,010,000	
税率	10%	消費税額	¥101,000	税込合計金額 ¥1,111,000	

係印  

出典：「ビジネス基礎新訂版」(実教出版 2018年1月) 137頁より抜粋

注 文 請 書 (ご注文書 No. 20)



平成 X年 6月 7日 (ご注文書日付 平成 X年 6月 5日)

東京都台東区上野  御中

東京都千代田区外神田 4-2-5
関東家電株式会社 御中

下記のとおりご注文をお願いいたします。

納入日	平成 X年 6月 20日	運送方法	自動車便	支払条件	着荷後7日以内 振込
納入場所	買い手倉庫	運賃掛	売り主・買い主 負担		
品名		数量	単価	金額 (税抜)・税込	
	3ドア冷蔵庫 (KR245)	10	101,000	1,010,000	
	以下余白				
合計		10	¥101,000	¥1,010,000	
税率	10%	消費税額	¥101,000	税込合計金額 ¥1,111,000	

係印  

上の注文書及び注文請書を見て次の質問に教えてください。

この注文書について：
発行会社は誰？
見積書とどこが違いますか？

この注文請書について：
発行会社は誰？
注文書とどこが違いますか？

ここでのやりとりで契約の成立はいつですか？

(4) 売買契約の履行

①商品の受け渡しに必要な書類

1) 商品の発送 (出荷)

出典:「ビジネス基礎新訂版」(実教出版 2018年1月) 138頁より抜粋

納品書

ご注文書 No. 20 No. 45

東京都千代田区外神田4-2-5 平成 X年 6月 20日



関東家電株式会社 御中

下記のとおりご注文品を発送いたしましたからご査収ください。なお、同封の物品受領書にご押印のうえご返送ください。

東京都台東区上野 1-10-8
関西電器株式会社 東京支社

品名	数量	単価	金額 (税抜・税込)
3ドア冷蔵庫 (KR245)	10	101,000	1,010,000
以下余白			
合計	10	¥101,000	¥1,010,000
税率 10%	消費税額 ¥101,000	税込合計金額 ¥1,111,000	

備考

係印  

2) 商品の受取 (荷受)

物品受領書

ご注文書 No. 20 No. 45


東京都千代田区外神田4-2-5

関東家電株式会社



受領年月日 平成 X年 6月 21日

下記のとおり受領いたしました。

東京都台東区上野 1-10-8
関西電器株式会社 東京支社 御中



品名	数量	摘要
3ドア冷蔵庫 (KR245)	10	振込
以下余白		
合計	10	

係印  

上の納品書 (「送り状」とも言います) 及び物品受領書 (「商品受取書」とも言います) を見て次の質問に答えてください。

<p>この納品書について： 発行会社は誰？ 同封の書類は何？</p>	<p>この物品受領書について： 発行会社は誰？ 検収とは？ 数量が間違っている場合どうしますか？ 破損の場合どうしますか？</p>
--	---

②商品代金の受け払いに必要な書類

出典：「ビジネス基礎新訂版」(実教出版 2018年1月) 138頁より抜粋

請 求 書

ご注文書 No. 20 No. 45

東京都千代田区外神田4-2-5 平成 X年 6月 20日

関東家電株式会社 御中

下記のとおりご請求いたします。

東京都台東区上野
関西電器株式会社 御中

品名	数量	単価	金額(税抜)・税込
3ドア冷蔵庫(KR245)	10	101,000	1,010,000
以下余白			
合 計	10	¥101,000	¥1,010,000
税率 10%	消費税額 ¥101,000	税込合計金額	¥1,111,000

備考

係印

領 収 証

No. 30 No. 30

平成 X年 6月 26日 平成 X年 6月 26日

領収先 関東家電株式会社

預収金額 ¥1,111,000

消費税額(10%) ¥101,000

種別 振込

摘要 商品売上代金

関東家電株式会社 御中

金額 ~~¥1,111,000~~

ただし3ドア冷蔵庫(KR245)売上代金

上記のとおり領収いたしました。

内訳

税抜金額 ¥1,010,000

消費税額(10%) ¥101,000

東京都台東区上野
関西電器株式会社 御中

上の請求書及び領収書を見て次の質問に答えてください。

<p>この請求書について：</p> <p>発行会社は誰？</p> <p>納品書とどこが違いますか？</p> <p>支払期限はいつ？</p>	<p>この領収書について：</p> <p>発行会社は誰？</p> <p>収入印紙はいくら？</p>
---	---

5万円の領収書(受取書)の印紙はいくらですか？

e-Govで調べてみよう <https://elaws.e-gov.go.jp/>

調べる箇所：印紙税法 別表第一(課税物件表) 番号十七

売掛金の消滅時効(売り手が代金を請求できる期間)は何年間ですか？改正民法で考えます。

e-Govで調べてみよう <https://elaws.e-gov.go.jp/>

調べる箇所：改正民法の第166条1項(なお、今回の民法改正により商法522条の商事消滅時効の規定は廃止されました。)

☞ ヒント：売掛金については、売り手（債権者）は、権利を行使することができることを知っているのが通常であると考えられますので、支払時期について特に約束がなければ契約成立時から5年、支払時期について約束がある場合はその支払時期（支払期限）の翌日から5年で消滅時効が成立することになります。（参考サイト：https://www.sumoviva.jp/trend-tips/20190215_1668.html）

時効は、債務者が「時効である」と主張する（「時効を援用する」といいます。）ことで初めて成立します。そのため万が一、時効の期間が過ぎていても、売掛金を払ってもらうことは特に問題有りません。また、時効の期間が過ぎていたとしても、債務について承認をしてもらえば、その後、債務者が時効であると主張することは許されないとするのが判例です。

（引用サイト：<https://houmu-bu.com/account-receivable-prescription2-115-1792>）

☞ 説明：改正民法においては、**債権者が権利を行使できる時（客観的起算点）から10年が経過したときに加えて、債権者が権利を行使することができることを知った時（主観的起算点）から5年が経過したときも**、債権は時効によって消滅するとされています。（改正民法 166 条 1 項）

（参考サイト：<https://www.businesslawyers.jp/practices/226>）

旧民法では一般的な債権の消滅時効は10年で、売掛金は、「商事債権」として商法によって時効が短縮され、消滅時効が5年となっていました（商法 522 条）が、民法改正に伴い、**商事時効（商法522条）は廃止**され、商事債権についても左記改正民法 166 条 1 項により規律されることになっています。（参考サイト：<https://saiken-pro.com/columns/6/>）

日本の売買の流れと取り交わす書類の整理

日付： 年 月 日	学科：	学年：	氏名：	学生番号：
-----------	-----	-----	-----	-------

次の表は売買の手順を示めたものです。空欄のなかに、下欄の書類より適切な日本語と英語を入れなさい。

買 主

売 主

(1) 関心のある商品の値段の見積と取引条件（品質、数量、価格、納期、納品場所、支払条件、保証条件等）を問い合わせる。



(2) の受取

(4) の受取



(3) 値段の見積と取引条件を提示する。

(5) 値段の見積や取引条件がOKであれば購入の申込をする。



(6) の受取

(8) の受取



(7) 購入の申込を承諾する。

(9)
契約の成立

(11) 注文品の入荷

(10) 注文品の出荷

(11) の受取



(10) 出荷時に出荷の明細書（送り状 INVOICE ともいう）を作成し、出荷と共に発送する。

(12) 出荷の明細書と注文時の控えに基づいて検品（検収ともいう）をし、OK であれば商品の受領確認をする。



(13) の受取

(15) の受取



(14) 代金を請求する。

(16) 代金の支払



(17) 代金の受領

(19) の受取



(18) 代金の受領確認の上、領収する。

取り交わす書類

日本語		英語	
注文請書	請求書	a Request for Quotation (RFQ)	a Receipt
商品受取書(物品受領書)	見積書	a Receipt of Goods (ROG)	an Invoice
領収書	納品書	an Acknowledgement of Order	a Quotation
見積依頼書	注文書	a Purchase Order	an Invoice

日付： 年 月 日	学科：	学年：	氏名：	学生番号：
-----------	-----	-----	-----	-------

国内の売買取引の契約の取り決めについてみておきましょう。

討議課題

デパートに出かけることができない場合に、通信販売で、シャツを買うことにしました。通信販売ですから、シャツを手にとって見ることはできません。
また、通信販売業者も決まっていません。さらに買主と売主が目の前にいません。あなたは買主としてシャツの購入のためには、何から始めますか。
また、購入の観点から、どのようなことをすることが必要だと考えますか？
ヒント☞テキスト4頁にある「2売買契約の条件」の‘頭書き’を見てください。

MEMO

次のヒントを参照しながら考えてみよう：

「業者の発見と選択」

「数量条件の取り決め」 **Quantity**

「品質条件の取り決め」 **Quality**

「価格条件の取り決め」 **Price**

「代金決済(支払条件)の取り決め」 **Payment**

「梱包条件の取り決め」 **Packing**

「発送条件と納期条件の取り決め」 **Shipment**

2 代金決済

支払用具として、ここで上げている用具を五つ上げてください。

--

(1) 現金通貨

参考サイト：http://www.kokusen.go.jp/t_box/data/t_box-faq_qa2019_20.html

①テキストの※1の「強制通用力」の説明の中で「21枚を超えた場合」とは、「21枚」を含みますか？

②次の表現で、21枚を含むものはどれですか？

「20枚以下」、「20枚以上」、「20枚未満」、「20枚を超える」、「21枚を超える」

ヒント☞「以上」・「以下」は基準となる数量を含むが、「を超える」・「未満」は基準となる数量は含まない。

お店の人に代金¥1,320-を全部硬貨で支払うことは可能ですか？

この代金を、お店の人に全部硬貨での支払を拒否されないで支払うにはどのように支払いますか？

(2) 小切手

ネットで調べよう。

①「貯金」と「預金」の違い

②「普通預金」と「当座預金」の違い

①小切手とはどのような証券ですか？テキストに沿って説明してください。

②証券とは？ウィキペディア <https://ja.wikipedia.org/wiki/証券>で調べてください。

ヒント☞二つの証券（証拠証券と有価証券）

③小切手は証拠証券ですか有価証券ですか？

小切手の利点を、テキストに沿って四点挙げてください。

--

①小切手の振り出し

当座預金への預け入れと引き出しの手続きはどのようになっていますか？

小切手帳（通常 50 枚綴りは）どこで購入しますか？

小切手の振り出しはどのように行いますか？

小切手の必要記載事項を列挙してください。

本人が姓名をタイプする場合は、「署名」ですか、「記名」ですか？

小切手への押印は、三文判でもよいか？

②小切手の受け取り

受け取った小切手を換金するにはどうしますか？二つの方法を記してください。

受け取った小切手の支払銀行への店頭提示の「呈示期間」は「振出日」の「翌日」からいつまでですか？

また、その小切手の振出人への支払い請求ができる「有効期限」は振出日からいつまでですか？（小切手法第 51 条を見てください）

③小切手の不渡り

小切手の不渡りとは、どういうことですか？

不渡りになると事業の継続が難しくなるのはなぜですか？

次の文章を読んで、上述の「不渡り」は何号不渡りに当たりますか？

原因と内容で分類される 3 種類の不渡り

出典サイト：「三井住友トラスト L&F」https://www.smtlf.jp/realestateloan/lineup/individual_corporate/column/15.html 一部加筆

「0 号不渡り」

「呈示期間」といって、受取人が銀行に対して現金化を求めることができる期間が定められています。手形では支払期日とそれに続く 2 日間、小切手なら振出日の翌日から 10 日間となっています。この呈示期間を過ぎてしまっているものや、記載ミスのような形式上の不備があるものが、「0 号不渡り」です。

「0 号不渡り」は、振出人の信用に起因するものではないため、銀行取引停止にはなりませんし、「不渡届」（不渡りが出た際、金融機関が手形交換所に届け出る書類。手形交換所は、この不渡届によりその内容を「不渡報告」に掲載して、加盟銀行に注意を喚起する）の作成も行われず、いわゆる「不渡り」の扱いは受けません。

「1号不渡り」

いわゆる「不渡り」は、「1号不渡り」のことです。当座預金に十分な残高がなくて支払いが行えない場合が「1号不渡り」です。振出人が当座預金を解約したといった理由で、その銀行と取引がない場合も「1号不渡り」になります。これは振出人の信用力にかかわる問題ですので、不渡り処分を受けることになります。

「2号不渡り」

「0号不渡り」にも「1号不渡り」にも相当しないものは、すべて「2号不渡り」に区分されます。

盗まれた手形や、だまされて振り出した手形、偽造・変造された手形等が、「2号不渡り」に相当します。

商品代金として手形を振り出したが商品が納入されなかったといった契約不履行が原因の不渡りも、「2号不渡り」になります。

「2号不渡り」では、「不渡届」は作成されるのですが、支払いに充てる資金不足の問題ではありませんので、(支払銀行により提出される)「不渡届」に対しては、さらに(振出人等の依頼により不渡報告又は銀行取引停止処分を免れるため支払銀行がする)「異議申立」(異議申立提供金の提供)を行うことができます。

当座貸越契約とは、どのような契約ですか？

不渡りを6か月以内に2度出すとどうなりますか？

④小切手の事故を防ぐには

自己宛小切手とは

持参人払とは

持参人払の小切手の場合、支払銀行は誰に支払いますか？

一般線引小切手の場合、支払銀行は誰に支払いますか？

特定線引小切手の場合、支払銀行は誰に支払いますか？

(3) 約束手形

約束手形とはどのような証券ですか？テキストに沿って説明してください。

約束手形の利点は、何ですか？テキストに沿って説明してください。

①約束手形の振り出し

約束手形の必要記載事項を列挙してください。

額面 100 万円の約束手形の印紙はいくらですか？

②約束手形の受け取り

取立とは？

テキスト 16 頁 (143 頁) にあるイラストにおいて、約束手形の支払人は誰？

呈示の期限はいつまで？

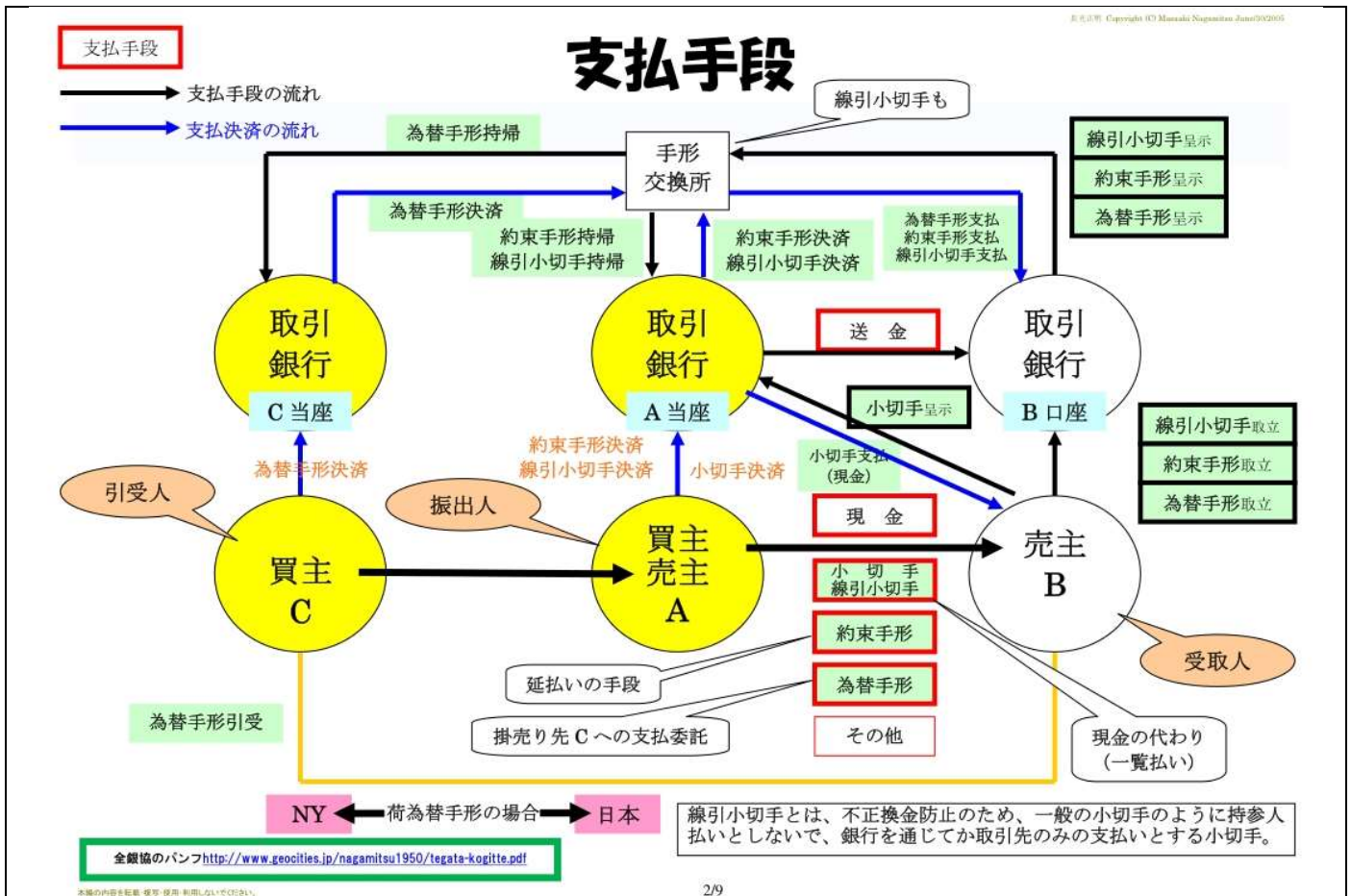
手形の割引で受け取る金額は、額面と同額ですか？

受け取った手形を他人に譲渡して商品代金の決済にあてることを何と言いますか？

次の () に適切な言葉を入れてください。

裏書によって、手形上の権利は () から () に移ります。

支払手段の整理



手形交換所における手形の決済の仕組み

手形の期日を7月15日の火曜日だとします。A銀行が振出人の銀行、B銀行が受取人の銀行とします。

7月14日(月)	7月15日(火)	7月16日(水)
【手形期日の前日】	【手形期日】	【手形期日の翌日午後】
「手形期日の前日」が銀行休業日の場合、休業日前の銀行営業日となります。	「手形期日」が銀行休業日の場合、休業日明けの営業日となります。	「手形期日の翌日」が銀行休業日の場合、休業日明けの営業日となります。
手形の受取人は、B銀行に手形を持ち込んで取立ての依頼をします。	日銀の各銀行の当座の交換戻処理 交換戻は、その手形期日に、日銀に各銀行が置いている当座預金の振替により決済されます。 A銀行(-)100万円→B銀行(+)100万円	B銀行は不渡りでなかったことを確認して受取人の口座へ振り込みます。(正確には、前日入金されているが、不渡りでない確認まで資金解除しない)
	A銀行は手形を持ち帰り、振出人の当座から引き落とします。 振出人のA銀行当座 (-)100万円	受取人のB銀行口座 (+)100万円

全国銀行協会: http://www.zenginkyo.or.jp/education/free_publication/pamph/details/pamph_04/animal03.pdf

※ 上述のように各銀行の交換戻は、日本銀行などに各銀行が置いている当座預金の振替により最終的に決済されます。そして、手形・小切手の振出人と所持人との間の決済は、持出銀行と持帰銀行間の決済後に行われます。この持出銀行と持帰銀行間の資金決済は手形交換日に行われますので、手形交換日が資金化日となり、手形期日に依頼人の指定口座に代金が入金されます。ただし、手形交換翌日の不渡りの有無の確定までは資金解除がされません(集中取立)。不渡りの確定する翌営業日の手形交換は午前中に必ず終了しますので、午後には解除(資金の引き出しができる)されます。

本図の内容を転載・複製・使用・引用しないでください。

3/9

上の図解を読み、額面50万円の約束手形の期日が6月17日(木)の場合、受取人は何時50万円を口座から引き出すことができますか？

③約束手形の不渡り

支払期日に支払人の当座預金が不足しているとその手形はどうなりますか？

遡及請求とは？

(4) 為替手形

為替手形とはどのような証券ですか？テキストに沿って説明してください。

為替手形の振出人について、約束手形の振出人との違いは何ですか？

①為替手形の振り出し

為替手形の必要記載事項を列挙してください。

②為替手形の引き受け

一般的には「引受のための名宛人に対する呈示」は誰がしますか？

引き受けとは？

③為替手形の受け取りと不渡り

国際取引において、取立の手段として用いられる「自己受け為替手形」の場合、その振出人、受取人、名宛人（支払人）について、一般的に輸入者は誰で、輸出者は誰だと思えますか？

- ・振出人 ⇒ 輸入者 or 輸出者？ いずれかに○を付けてください！
- ・受取人 ⇒ 輸入者 or 輸出者？ いずれかに○を付けてください！
- ・名宛人（支払人）⇒ 輸入者 or 輸出者？ いずれかに○を付けてください！

(5) さまざまな代金決済の方法

①預金の振替

口座振替の利点は何ですか？テキストに沿って利点を上げてください。

②銀行振込

振替と振込について、次の（ ）にいずれの言葉が入るか、適切な言葉を入れてください。

携帯電話の料金が銀行口座から毎月引き落とされている場合を（ ）といい、その料金を銀行のATMから指定の銀行口座に送金する場合を（ ）という。

③クレジットカード

商品代金の決済を「クレジットカード」でする場合、その支払は「前払い」ですか「後払い」ですか「代金引換払い」ですか？

④デビットカード

「キャッシュカード」で、その加盟店で商品代金を決済する「デビットカード」場合、その支払は「前払い」ですか「後払い」ですか「代金引換払い」ですか？

⑤電子マネー

電子マネーは、テキストでは「ICカード型」と「ネットワーク型」の二つに分類されていますが、Edy、Suica、ICOCAは、どちらの型の「プリペイド型電子マネー」ですか？

プリペイドカードなどの「前払式支払手段」は、「資金決済に関する法律」（資金決済法）で規制されています。この法律の第1条の目的をここにコピペしてください：

日付： 年 月 日	学科：	学年：	氏名：	学生番号：
-----------	-----	-----	-----	-------

手形小切手の用語の整理問題

次の説明に最適な用語を語群から選び、記号で答えなさい。

用語	説明
	① 手形が不渡りになった場合、手形の所持人が振出人や裏書人に対して、支払の請求を行うこと。
	② 銀行などに当座預金をしている者が、その銀行などに対して、持参人への支払いを委託した有価証券。
	③ 支払人の預金残高不足のため、小切手や手形の支払いができなくなること。
	④ 表面に2本の平行線を引いた小切手。盗難・紛失などの際の損害を防止するために利用する。一般線引小切手と特定線小切手がある。
	⑤ 振出人が受取人(名あて人)に対して、一定期日に、一定の金額を支払うことを約束した有価証券。
	⑥ 手形の裏面に必要事項を記入し、署名または記名、押印し手形を他人に譲渡すること。
	⑦ 振出人が支払人(名あて人)に対して、一定期日に一定の金額を受取人に支払うよう委託した有価証券。

語 群

(ア)遡及 (イ)為替手形 (ウ)小切手 (エ)裏書き (オ)不渡り (カ)約束手形 (キ)線引小切手

出典：「ビジネス基礎」(実教出版 2018 年 1 月)204頁の「重要用語のまとめと解説」(問題文に変更)

用語	①	②	③	④	⑤	⑥	⑦
語群							

日付： 年 月 日	学科：	学年：	氏名：	学生番号：
-----------	-----	-----	-----	-------

質問 ひな形の کوچک手、約束手形、為替手形、荷為替手形について、次の表を完成しなさい。

	金額	振出日	支払期日 又は 支払期限	振出人 A	引受人 又は支払人 又は名宛人 C	受取人 B	振出人 の 取引銀行	引受人 又は支払人 又は名宛人 の 取引銀行	受取人 の 取引銀行
小切手			振出日の 翌日から 10日以内						不明
約束手形									
為替手形									
荷為替手形 D/P 手形									

AZ 003

平成 X 年 9 月 2 日

金額 ¥50,000

譲り先 山口商店

振込先 商品仕入代金

残高 ¥457,500

① 小切手

AZ 003

支払地 大阪市北区梅田 1 丁目

株式会社 大信銀行梅田支店

金額 ¥50,000 見本

上記の金額をこの小切手と引き替えに
持票人へお支払いください

拒絶証書不要

振出日 平成 X 年 9 月 2 日 大阪府北区梅田 2 丁目 5 番 7 号
株式会社 岡山商店

振出地 大阪府北区 振出人 取締役社長 岡山 太郎

② ③ ④ ⑤ ⑥

⑦ ⑧

⑨ ⑩

⑪ ⑫

⑬ ⑭

⑮ ⑯

⑰ ⑱

⑲ ⑳

㉑ ㉒

㉓ ㉔

㉕ ㉖

㉗ ㉘

㉙ ㉚

㉛ ㉜

㉝ ㉞

㉟ ㊱

㊲ ㊳

㊴ ㊵

㊶ ㊷

㊸ ㊹

㊺ ㊻

㊼ ㊽

㊾ ㊿

約束手形 No. ♂ B 04120

受取人 株式会社 水沢商店

金額 ¥187,000

支払期日 平成 X 年 12 月 9 日

支払地 東京都中央区

支払場所 豊田 西北銀行日本橋支店

振出日 平成 X 年 11 月 4 日 振出地 東京都中央区

備考 商品仕入代金

No. ♂ ① 約束手形 B 04120

東京都千代田区千代田 1 丁目 1 番 1 号

株式会社 水沢商店 限

金額 ¥187,000

支払期日 平成 X 年 12 月 9 日

支払地 東京都中央区

支払場所 豊田 西北銀行日本橋支店

振出日 平成 X 年 11 月 4 日

振出地 東京都中央区

振出人 株式会社 松本商店

取締役社長 松本 一郎

② ③ ④ ⑤ ⑥ ⑦ ⑧ ⑨ ⑩ ⑪ ⑫ ⑬ ⑭ ⑮ ⑯ ⑰ ⑱ ⑲ ⑳ ㉑ ㉒ ㉓ ㉔ ㉕ ㉖ ㉗ ㉘ ㉙ ㉚ ㉛ ㉜ ㉝ ㉞ ㉟ ㊱ ㊲ ㊳ ㊴ ㊵ ㊶ ㊷ ㊸ ㊹ ㊺ ㊻ ㊼ ㊽ ㊾ ㊿

為替手形 No. ♀ Y 00135

振出日 平成 X 年 11 月 9 日 振出地 東京都中央区

受取人 株式会社 福島商店

金額 ¥450,000

支払期日 平成 X 年 12 月 9 日

支払地 名古屋市中区

支払場所 株式会社 昭和銀行本店

振出人 株式会社 千葉商店

買掛金支払い

No. ♀ ① 為替手形 Y 00135

住所 名古屋市中区栄 1 丁目 4 番 9 号

株式会社 千葉商店 限

金額 ¥450,000

支払期日 平成 X 年 12 月 9 日

支払地 名古屋市中区

支払場所 株式会社 昭和銀行本店

振出日 平成 X 年 11 月 9 日

振出地 東京都中央区

振出人 株式会社 松本商店

取締役社長 松本 一郎

名古屋市中区栄 1 丁目 4 番 9 号

株式会社 千葉商店

取締役社長 千葉 信一

② ③ ④ ⑤ ⑥ ⑦ ⑧ ⑨ ⑩ ⑪ ⑫ ⑬ ⑭ ⑮ ⑯ ⑰ ⑱ ⑲ ⑳ ㉑ ㉒ ㉓ ㉔ ㉕ ㉖ ㉗ ㉘ ㉙ ㉚ ㉛ ㉜ ㉝ ㉞ ㉟ ㊱ ㊲ ㊳ ㊴ ㊵ ㊶ ㊷ ㊸ ㊹ ㊺ ㊻ ㊼ ㊽ ㊾ ㊿

大阪市中央区安堂寺橋通3丁目10番地
株式会社 山口商店
取締役社長 山口三郎



<p>記名振替手形照会票記入又はその代理人への取次ぎについて 平成 17 年 11 月 6 日 照会照会不要</p> <p>住所 東京都千代田区五番町9番地 株式会社 水沢 商店 取締役社長 水沢 太郎</p> <p>(目的) 譲渡のため 株式会社 千代田商店 殿</p> <p>照会照会不要 平成 17 年 11 月 25 日 照会照会不要</p> <p>住所 東京都千代田区外神田2丁目4番1号 株式会社 千代田 商店 取締役社長 千代田 一夫</p> <p>(目的) 寄付保留のため 株式会社 明和銀行 神田支店 殿</p>	<p>記名振替手形照会票記入又はその代理人への取次ぎについて 平成 17 年 12 月 8 日 照会照会不要</p> <p>住所 仙台市一番町2丁目1番4号 株式会社 福島 商店 取締役社長 福島 一二</p> <p>(目的) 取次ぎのため 株式会社 北部銀行本店 殿</p> <p>照会照会不要 平成 17 年 12 月 8 日 照会照会不要</p> <p>住所 東京都千代田区外神田2丁目4番1号 株式会社 千代田 商店 取締役社長 千代田 一夫</p> <p>(目的) 寄付保留のため 株式会社 明和銀行 神田支店 殿</p>
---	--



荷為替手形 D/P 手形 (At Sight)

No. 450

BILL OF EXCHANGE

For US\$3,800.00-

Tokyo, August 20, 2018

At XXXXXXXXXXXXXXXXXXXX sight of this **FIRST** of Exchange (**Second** of the same tenor and date being unpaid) Pay to The Bank of Showa, Ltd., Tokyo or order the sum of Dollars Three Thousand Eight Hundred only in US Currency
Value received and charge the same to account of _____

Drawn under _____
Irrevocable _____ Dated _____
To _____

The Pacific Trading Co., Inc.
New York

The Japan Trading Co., Ltd.
Jumio Saito
Export Manager



荷為替手形を読んでみよう

L/C に基づかない荷為替手形(At Sight)

No. 450	BILL OF EXCHANGE		
For US\$3,800.00-			Tokyo, August 20, 2018
At _____ sight of this FIRST of Exchange (Second of the same tenor and date being unpaid) Pay to <u>The Bank of Showa, Ltd., Tokyo</u> or order the sum of Dollars Three Thousand Eight Hundred only in US Currency			①
Value received _____			②
Drawn under _____ Irrevocable _____	Dated _____		
To			
The Pacific Trading Co., Inc. New York		The Japan Trading Co., Ltd. <i>Fumio Saito</i> Export Manager	(収入印紙)

主要部分は、①支払い指図の文言と②対価受領済みなので同額を請求せよという文言です。以下、各部分を読んでみましょう。

①「At _____ sight of this **FIRST** of Exchange (**Second** of the same tenor and date being unpaid) Pay to The Bank of Showa, Ltd., Tokyo or order the sum of **Dollars Three Thousand Eight Hundred only in US Currency**」

これは、次のように書き換えることができます： Pay to The Bank of Showa, Ltd., Tokyo or order the sum of Dollars Three Thousand Eight Hundred only in US Currency, at sight of this **FIRST** Bill of Exchange unless the **Second** Bill of Exchange of the same tenor and date has been paid yet.

- ・or order 又は指図人
- ・of the same tenor and date 同じ手形期限および振出日の
- ・being unpaid 条件を表す分詞構文で、「もし第2券の支払いが未だ行われていないなら」という意味
以下に訳を書きなさい。

②「Value received

これは、次のように書き換えることができます： Since the value has already been received

- ・Value received 理由を表す分詞構文

以下に訳を書きなさい。

日付: 年 月 日	学科:	学年:	氏名:	学生番号:
-----------	-----	-----	-----	-------

課題: 以下の法定記載事項の8項目を次の荷為替手形で1~8の番号を振って確認してみましょう。

手形法が定める要件(法定記載事項)

手形法(昭和七年七月十五日法律第二十号)より抜粋

(為替手形ノ振出及方式)

第一条 為替手形ニハ左ノ事項ヲ記載スベシ

- 一 証券ノ文言中ニ其ノ証券ノ作成ニ用フル語ヲ以テ記載スル為替手形ナルコトヲ示ス文字
- 二 一定ノ金額ヲ支払フベキ旨ノ単純ナル委託
- 三 支払ヲ為スベキ者(支払人)ノ名称
- 四 満期ノ表示
- 五 支払ヲ為スベキ地ノ表示
- 六 支払ヲ受ケ又ハ之ヲ受クル者ヲ指図スル者ノ名称
- 七 手形ヲ振出ス日及地ノ表示
- 八 手形ヲ振出ス者(振出人)ノ署名

No. 450

BILL OF EXCHANGE

For US\$3,800.00

Tokyo, August 20, 2018

At _____ sight of this **FIRST** of Exchange (**Second** of the same tenor and date being unpaid) Pay to The Bank of Showa, Ltd., Tokyo or order the sum of Dollars Three Thousand Eight Hundred only in US Currency
Value received and charge the same to account of _____

Drawn under
Irrevocable

Dated _____

To

The Pacific Trading Co., Inc.
New York

The Japan Trading Co., Ltd.

Fumio Saito

Export Manager

(収入印紙)

売買に関する計算

1 売買に関する計算の基礎

(1) 割合

①割合の表し方と計算

次の文章の（ ）に適切な言葉を入れてください。

割合とは、「ある分量について、全体に対してそれが占める分量のこと」をいいます。ここで「全体」のことを「基準量」といい、全体に対して占める「分量」を「比較量」といいます。したがって、割合とは、（ ）量に占める（ ）量の比率（構成比率）のことです。

この比率の表し方には、小数、（ ）、歩合、分数などが使われます。

割合の計算式は次のようになります：

$$\text{割合} = \frac{\text{比較量}}{\text{基準量}}$$

「1割」という表し方を（ ）といい、「0.1」という表し方を（ ）といいます。また、「10%」という表し方を（ ）といいます。

なお、「比率」と「割合」はどちらも二つ以上の数量を比べたものですが、その違いは、「比率」は二つ以上の分量を比べた時の度合いを表す表現で、「割合」は全体の中でその分量がどれほど占めているのかを表す表現です。

参考サイト：「割合と比を使い分けよう」<https://hamadajuku.com/column/teach/tex/hi.pdf>

テキストの33頁（本書の151頁）の確認問題をしてください。

(1)				
No.	小数	百分率	歩合	分数
1	0.2			
2		48%		
3			6割2分	
4				26/100
(2)				
(3)				
(4)				
(5)				

②基準量と比較量の計算

テキストの34頁（本書の152頁）の確認問題をしてください。

(1)
(2)
(3)
(4)
(5)
(6)

③割増しの計算

次の文章の（ ）に適切な言葉を入れてください。

基準量に、ある割合の量を加えることを（ ）という。その加えた量を（ ）という。

テキストの35頁（本書の153頁）の確認問題をしてください。

(1)
(2)
(3)
(4)
(5)
(6)

④割引の計算

次の文章の（ ）に適切な言葉を入れてください。

基準量から、ある割合の量を引くことを（ ）という。その引いた量を（ ）という。

テキストの36頁（本書の154頁）の確認問題をしてください。

(1)
(2)
(3)
(4)
(5)
(6)

(2) 商品の数量と代価

①代価の計算

商品の代価は、**単価×取引数量**で計算されます。単価が、慣習的な取引単位（建）当たりの単価（建値）であれば、取引数量をその単位（建）に直すか、単価（建値）を取引数量単位当たりの単価に直すかして計算します。

テキストの37頁（本書の155頁）の確認問題をしてください。

(1)
(2)
(3)
(4)

(3) 仕入原価と売価（販売価格）

仕入とは？ネットで調べてください。
ビジネスでは、仕入れた金額に利益額を加えて販売しますが、そうするのはなぜ？

①仕入原価の計算

仕入金額に仕入諸掛を加えて仕入原価を計算するのはなぜですか？

テキストの38頁（本書の156頁）の確認問題をしてください。

(1)
(2)
(3)

②値入れと予定売価（予定販売価格）の計算

予定売価はどのように計算しますか

定価とは？
値入とは？
仕入原価に値入率を掛けると何が計算されますか？
仕入原価に見込利益額を加えると何が計算されますか？

テキストの39頁（本書の157頁）の確認問題をしてください。

(1)
(2)
(3)

③値引きと実売価（実販売価格）の計算

売価とは？
値引きとは？
定価（予定売価）と売価（実売価）の差額を何と言いますか？
予定売価に値引率を掛けると何が計算されますか？

テキストの40頁（本書の158頁）の確認問題をしてください。

(1)
(2)
(3)
(4)

④損益額と損益率の計算

売価と仕入原価を比べて、売価が大きい時（売価>仕入原価）の差額を何と言いますか？
売価と仕入原価を比べて、仕入原価が大きい時（売価<仕入原価）の差額を何と言いますか？
仕入原価に対する利益額の割合を何と言いますか？
仕入原価に対する損失額の割合を何と言いますか？
仕入原価に利益率を掛けると何が計算されますか？
仕入原価に損失率を掛けると何が計算されますか？

テキストの41頁（本書の159）の確認問題をしてください。

(1)
(2)
(3)

日付： 年 月 日	学科：	学年：	氏名：	学生番号：
-----------	-----	-----	-----	-------

売買に関する計算の基礎

1	¥630,000 の 2.5%はいくらですか？ 式を書いて計算してみましょう。
2	ある学校の生徒は 750 人です。そのうち女子生徒は 315 人です。この学校の生徒数に占める女子生徒の割合は何パーセントですか？
3	A 会社の先月の売上高は¥4,500,000 で、今月の売上高は¥5,625,000 でした。先月に比べて売上高は何割何分増加しましたか？
4	ある金額の 39%引きが¥146,400 でした。ある金額はいくらですか？
5	ある商品を 1 個につき¥1,800 で仕入れ、代価¥252,000 を支払いました。仕入数量は何個ですか？
6	10 個につき¥2,150 の商品を 750 個仕入れ、運賃などの諸掛¥7,380 を支払いました。仕入原価はいくらですか？
7	ある商品を 1 ダース¥4,000 で 50 ダース仕入れ、仕入原価の 25%の利益を見込んで予定売価をつけました。予定売価はいくらですか？
8	仕入原価¥72,000 の商品に 25%の利益を見込んで予定売価をつけましたが、新製品が発売されたため、予定売価の 10%引きで販売しました。この商品の実売価はいくらですか？
9	仕入原価の 3 割の利益を見込んで予定売価をつけ、予定売価の 8 掛*で売った商品の実売価が¥520,000 でした。この商品の仕入原価はいくらですか？ * 「はちがけ」と読み、8 割を意味します。2 割引きや 20%引きと同じことです。
10	仕入原価に 20%の利益を見込んで予定売価をつけましたが、予定売価の 30%引きで販売したところ、商品の実売価が¥672,000 でした。この商品の損失率は何パーセントですか？
11	1 個¥600 の商品を 20 ダース仕入れ、仕入諸掛¥6,200 を支払いました。この商品を ¥180,000 で全部売りました。利益額はいくらですか？

出典：「ビジネス基礎新訂版」（実教出版 2018 年 1 月）160 頁より抜粋